









Score obtenu : / 28

1) Opérations : Relie deux à deux les cartes qui font 10.



.../4

2) Suites numériques : Trouve la règle et écris le nombre manquant.

20 - 18 - 16 - - 12

9 - 12 - - 18 - 21

.../4

3) Calculs enchaînés : Calcule et complète les bulles.

(10) + 4 () - 2 () + 3 () + 5 () + 10 (30)

.../4

4) Relations entre les nombres : Colorie d'une même couleur les cartes qui représentent le même nombre.

16

5

12

13

2 + 2 + 1

8 + 8

5 + 3 + 5

7 + 3 + 2

.../4

5) Le compte est bon : Effectue des calculs avec les nombres donnés pour trouver le nombre cible. Écris tes calculs dans les cases.

Attention : tu n'es pas obligé(e) d'utiliser tous les nombres et tu ne dois pas utiliser deux fois le même nombre.

3, 7, 2, 6, 1 → (16)

.../4

6) Problème : Observe l'image pour répondre.

Combien reste-t-il de crayons dans la pochette ?



.../4

7) Léo a fait 10 avec 3 dés. Retrouve la face du 3^e dé.



.../4